



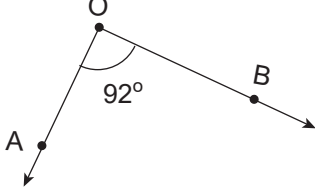
2024-2025 EĞİTİM-ÖĞRETİM YILI 1. DÖNEMİ

..... ORTAOKULU

5. SINIFLAR MATEMATİK DERSİ BEP 2. YAZILI SINAVI

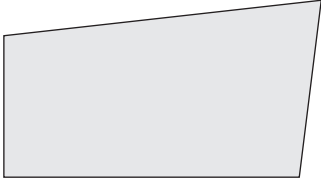
ADI SOYAD:		Sınav süresi 40 dakikadır.	TARİH:	PUAN
SINIF:		NO:		

01.



şekle göre, AOB açısı kaç derecedir? (10 Puan)

02.



şekildeki dörtgenin kaç kenarı vardır? (10 Puan)

03. Aşağıda okunuşu verilen sayıyı rakamla yazınız. (10 Puan)

Dört yüz yirmi üç :

04.

1643

Yukarıda rakamla yazılan sayının okunuşunu yazınız. (10 Puan)

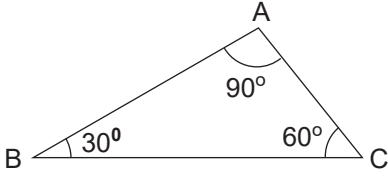
05.

4235

Yukarıda verilen doğal sayının rakamların toplamını bulunuz. (15 Puan)

06. Ali, bir kantinden 10 TL ödeyerek bir su alıyor.
Eğer 2 su alsaydı kaç lira öderdi? (15 Puan)

07.



ABC üçgeninin en büyük iç açısının ölçüsü kaç derecedir? (15 Puan)

08. Aşağıdaki tabloda bir kırtasiyede satılan ürünlerden bazılarının TL cinsinden fiyatları verilmiştir.

Kalem	Silgi
30 TL	10 TL

Bu kırtasiyeden 1 kalem, 2 silgi alan bir kişinin kasaya kaç lira ödeyeceğini bulunuz. (15 PUAN)