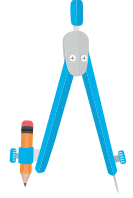
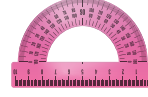



## AV YAYINLARI 5. SINIF MATEMATİK 1. DÖNEM 1. YAZILI SORULARI



Adı Soyadı:..... Sınıfı:..... Numarası: ..... Aldığı Not: .....

1. Aşağıda verilen araçların isimlerini altlarına yazınız. (10 puan)

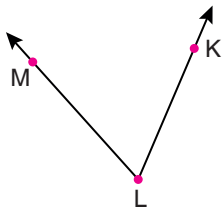


-----

2. Aşağıda verilen geometrik gösterimleri sembolle gösterimlerini yazınız. (10 puan)



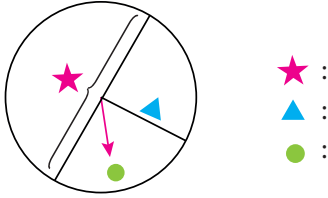
3. Aşağıda verilen açıyla ilgili istenilen bilgileri yazınız. (10 puan)



- Açının kolları:
- Açının köşesi:
- Sembolle gösterimleri:

4. Pergel kullanarak 3 santimetre yarıçaplı bir çember çiziniz. (10 puan)

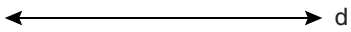
5. Aşağıda verilen çemberin elemanlarını yazınız. (10 puan)



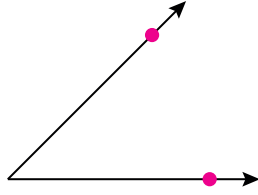
6. Aşağıda verilen CD'ye A noktasından dikme çiziniz. (10 puan)



7. d doğrusuna 2 cm uzaklıkta olan üç nokta belirleyiniz. (10 puan)



8. Aşağıda verilen açığı isimlendirip açı ölçerle ölçünüz. Açı ölçüsünü sembolle gösteriniz. (10 puan)



9. Aynı kağıt üzerine çizilebilecek iki doğrunun oluşturabileceği tüm durumları çizerek yazınız. (10 puan)

A)

B)

C)

D)

10. Komşu tümler ve komşu bütünler açılardan yararlanarak aşağıdaki istenen açıların ölçüsünü bulunuz. (10 puan)

