

Adı ve soyadı:

Puanı:

Sınıf ve no: /

01.



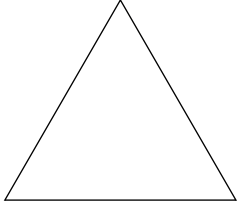
Yukarıda verilen geometri aracının adını yazınız. (15 puan)

02.



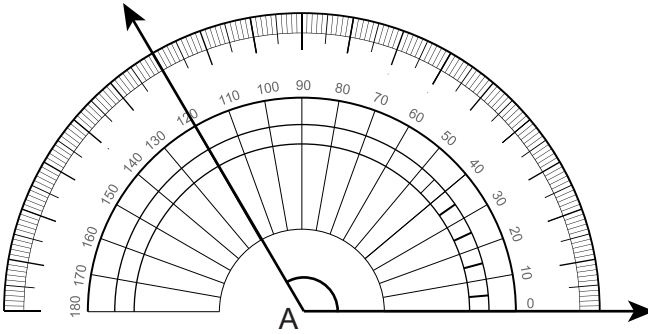
Yukarıda verilen geometrik şeklin adını yazınız. (15 puan)

03.




Yukarıdaki geometrik şeklin adını yazınız. (15 puan)

04.




Yukarıda verilen A açısının ölçüsü kaç derecedir? (15 puan)

05.



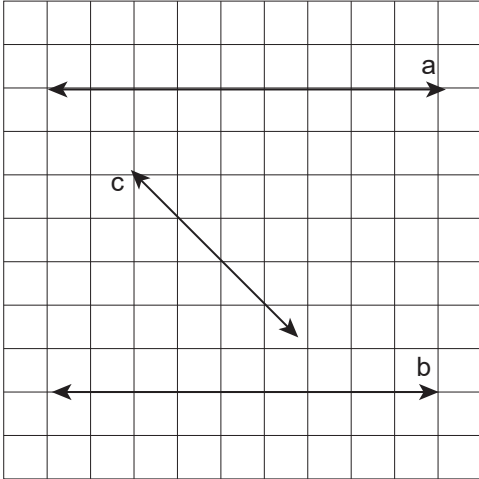
Yukarıdaki geometrik şeklin adını yazınız. (15 puan)

06.



Yukarıdaki geometrik şeklin adını yazınız. (15 puan)

07.



Yukarıda birbirine paralel olan doğruları yazınız. (10 puan)